



Sindhi High School K.K. Road Bengaluru -01

Worksheet-4 (2024-25)

Subject: English

Name: _____

Date: 27/11/2025

Class: II A / B/ C

Marks: 20

Roll no: _____

Reading Time: 8.00 am - 8.10 am

No of sides printed: 3

Writing Time: 8.10 am - 9.10 am

Section - A

(3×1=3)

Read the passage and answer the questions.

Ragini has a big garden in front of her house. Her father is very fond of gardening. Everyday he waters the plants. Ragini watches her father working in the garden. She wonders how seeds grow into seedlings.

One day, she sees her brother sharpen his pencil. Every time he sharpens it, it looks smaller. His eraser also becomes smaller because he uses it everyday.

Suddenly, she has an idea. "Why not plant a pencil and an eraser just like papa plants the seedlings?"

I. Answer the following:

1. What does Ragini have in front of her house?

2. What idea does Ragini think of?

3. Write the opposite of

a) Bigger × _____

4. What does wonder mean? Tick the correct answer.

a) Think ☐

b) Think with surprise ☐

c) Do something ☐

Section- B

1. Look at the drawing and write the message in 3 sentences:



(1) Circle the correct answer.
1. Kittens
2. Amma

Section - C

- I. Complete these sentences with prepositions from the box: $(3 \times \frac{1}{2} = 1\frac{1}{2})$

for, over, after

1. You must brush your teeth _____ eating sweets.
2. I bought gift _____ my father.
3. Birds are flying _____ the tree.

- II. Fill in the blanks with the given prepositions and complete the story: $(2\frac{1}{2})$

[under, on, near, in, across]

Ravi is waiting for his school bus. He carries his bag _____ his shoulders. All his books are _____ the bag. He sees many children running _____ the road.

“It is very dangerous”, he thinks. It is raining, so Ravi and his mother are standing _____ an umbrella. Their dog is sitting _____ them.

Circle the correct form of verb:

1

1. Kittens *sleep* / *sleeps* on the sofa.
2. Amala's mother *write* / *writes* the letter.

IV. Write the past tense of:

1

1. Drink - _____
2. Fight - _____

V. Complete the following sentences using is, are, was, were:

2

1. Priya _____ an artist.
2. I _____ having dinner when the guests arrived.
3. They _____ running to catch the train.
4. Mahi and Rani _____ at the hotel last evening.

Section- D

I. Read the following extract and answer the questions: (2×1=2)

1. "So he decided to draw the message."
a) For whom was the message?

- b) Why did he decide to draw the message?

II. Answer the following:

(2×1=2)

1. Why did Dudi draw a woman with seven teeth?

2. What did Mini see from the train window in the afternoon?

III. Complete the sentences:

(2×1=2)


1. Mini and her parents are going to _____.
2. Dudi drew a wolf in a forest because _____.



SINDHI HIGH SCHOOL, K K ROAD BENGALURU -01

WORKSHEET - 4 (2024 - 25)

SUBJECT: II Language Kannada



Name : _____

Date : 29-1-2025

Class : 2 A/ B/ C

Marks : 20

Roll No _____

Reading time – 8:00 am to 8:10 am

No of sides - 4

Writing time – 8:10am to 9:10 am

I ಅರ್ಥಗಳನ್ನು ಬರೆಯಿರಿ.

$\frac{1}{2} \times 2 = 1$

೧. ಗಗನ - _____ ೨. ಸುಂದರ - _____

II ವಚನ ಬದಲಿಸಿ ಬರೆಯಿರಿ.

$\frac{1}{2} \times 2 = 1$

೧. ಏಟುಗಳು - _____ ೨. ಗುರು - _____

III ವಿರುದ್ಧ ಪದಗಳನ್ನು ಬರೆಯಿರಿ.

$\frac{1}{2} \times 2 = 1$

೧. ನಗು X _____ ೨. ಸಂತೋಷ X _____

IV ಲಿಂಗ ಬದಲಿಸಿ ಬರೆಯಿರಿ.

$\frac{1}{2} \times 2 = 1$

೧. ಬಾಲಕ - _____ ೨. ಗೆಳತಿ - _____

V ಖಾಲಿ ಬಿಟ್ಟ ಸ್ಥಳದಲ್ಲಿ ಸರಿಯಾದ ಉತ್ತರ ಆರಿಸಿ ಬರೆಯಿರಿ. $\frac{1}{2} \times 4 = 2$

೧) ಜನರು ಶಿಲ್ಪಿಯನ್ನು ಬಾಯಿ ತುಂಬ _____

ಅ) ಹೊಗಳುತ್ತಿದ್ದರು ಆ) ಹೆದರಿಸುತ್ತಿದ್ದರು ಇ) ಬೈಯುತ್ತಿದ್ದರು

೨) ತಂದೆ- ತಾಯಿ , ಬಂಧು-ಬಳಗವೆಲ್ಲ ನನ್ನ _____

ಅ) ರಾಜರು ಆ) ದೇವರು ಇ) ಮಿತ್ರರು

೩) ಇವರು ಮಹಿಳೆಯರಿಗೂ _____ ಬೇಕೆಂದು ಹೇಳಿದರು.

ಅ) ಆಹಾರ ಆ) ನ್ಯಾಯ ಇ) ಶಿಕ್ಷಣ

೪) ಒಬ್ಬ ಶಿಲ್ಪಿ ಸುಂದರವಾದ _____ ಕೆತ್ತಲು ಮೂರು ಕಲ್ಲುಗಳನ್ನು ತಂದನು.

ಅ) ಮೂರ್ತಿಗಳನ್ನು ಆ) ಗೋಪುರಗಳನ್ನು ಇ) ರಸ್ತೆಗಳನ್ನು

VI ಈ ಪ್ರಶ್ನೆಗಳಿಗೆ ಉತ್ತರಿಸಿ.

1 X 4 = 4

೧) ಭೂಮಿ ಏನನ್ನು ಹೊದ್ದು ನಿಂತಿದೆ?

೨) ಬಾಲಕನಿಗೆ ಏನು ಹೇಳಲು ಮನಸ್ಸು ಬರಲಿಲ್ಲ?

೩) ಯಾವ ಕಲ್ಲು ಸುಂದರ ಮೂರ್ತಿಯಾಯಿತು?

೪. ಗುರುಗಳು ಹುಡುಗನಿಗೆ ಯಾವ ಸಾಲಿನಲ್ಲಿ ಕುಳಿತು ಕೊಳ್ಳಲು ಹೇಳಿದರು?

VII ಜೋಡಿಪದ ಬರೆಯಿರಿ

$\frac{1}{2} \times 2 = 1$

೧. ಬೆಟ್ಟ- _____

೨. ಕಾಡು - _____

VIII ಪದಗಳನ್ನು ಕೂಡಿಸಿ ಬರೆಯಿರಿ


$\frac{1}{2} \times 2 = 1$

೧. ಶಿಲ್ಪಿ + ಅನ್ನು = _____

೨. ಸುತ್ತಿಗೆ + ಅನ್ನು = _____

IX ಗದ್ಯಭಾಗವನ್ನು ಓದಿ ಉತ್ತರಿಸಿ.

$1 \times 4 = 4$



ಹಸು ಬಹಳ ಸಾಧುವಾದ ಪ್ರಾಣಿ. ಅದು ಹಾಲು ಕೊಡುತ್ತದೆ. ಅದರ ಪುಟ್ಟ ಮಕ್ಕಳೇ ಕರುಗಳು ಮತ್ತು ಎತ್ತುಗಳು. ಹೊಲ ಉಳಲು, ಗಾಡಿ ಎಳೆಯಲು ಎತ್ತುಗಳು ಸಹಾಯ ಮಾಡುತ್ತವೆ. ಆದ್ದರಿಂದ ಜನರು ಮನೆಗಳಲ್ಲಿ ಹಸುವನ್ನು ಸಾಕುತ್ತಾರೆ. ಅದಕ್ಕೆ ಮನೆಯನ್ನು ಕಟ್ಟಿಕೊಡುತ್ತಾರೆ. ಈ ಮನೆಯೇ ಹಸುವಿನ ಕೊಟ್ಟಿಗೆ.

೧. ಹಸುವಿನ ಮನೆಯನ್ನು _____ ಎನ್ನುವರು.

ಅ) ಗುಹೆ ಆ) ಕೊಟ್ಟಿಗೆ ಇ) ಬಿಲ

೨. ಸಾಧುವಾದ ಪ್ರಾಣಿ _____

ಅ) ಹಸು ಆ) ಸಿಂಹ ಇ) ಹುಲಿ

೩. ಹೊಲ ಉಳಲು, ಗಾಡಿ ಎಳೆಯಲು _____ ಸಹಾಯ ಮಾಡುತ್ತವೆ.

ಅ) ಎತ್ತುಗಳು ಆ) ಬೆಕ್ಕುಗಳು ಇ) ಇಲಿಗಳು

೪. ಹಸುವು _____ ಕೂಡುತ್ತದೆ.

ಅ) ನೀರು

ಆ) ತುಪ್ಪ

ಇ) ಹಾಲು

X ಸರಿಯಾದ ಅಕ್ಷರ ಬಳಸಿ ಸೂಕ್ತ ಪದ ರಚಿಸಿ.

$\frac{1}{2} \times 2 = 1$

೧. ಹರ _____ (ಜು, ಸು, ಪು)

೨. ಸತ್ಯ _____ ತ (ವಂ, ನಂ, ಗಂ)


XI ಚಿತ್ರವನ್ನು ಎಣಿಸಿ ಕನ್ನಡದಲ್ಲಿ ಸಂಖ್ಯೆಯನ್ನು ಬರೆಯಿರಿ. $\frac{1}{2} \times 2 = 1$

೧. ರಿ ರಿ ರಿ ರಿ ರಿ = _____

೨.  = _____

XII ಚಿತ್ರ ನೋಡಿ ಪದಗಳನ್ನು ಬರೆಯಿರಿ.

$\frac{1}{2} \times 4 = 2$





SINDHI HIGH SCHOOL, K.K. ROAD BENGALURU - 01

WORKSHEET - 4 (2024-25)

SUBJECT: HINDI (ADDITIONAL LANGUAGE)

Name: _____

Date: 03 .02 .25

Class: 2 A B C

Max Marks: 20

Roll No: _____

Reading Time: 8.00 am -8.10 am

No of printed sides : 3

Writing Time: 8.10 am -9.10am

। निम्नलिखित गद्यांश को पढ़कर सही उत्तर पर सही (✓) का निशान लगाइए:- (3)

एक तालाब में बहुत से कछुए रहते थे। एक बार उस तालाब के किनारे कुछ बच्चे खेलने आए। उनमें से एक लड़क जिसका नाम रोहन था वह बहुत शरारती था । खेलते-खेलते रोहन कछुओं को पत्थर मारने लगा । जिससे कई कछुए घायल हो गए। राजू एक समझदार बच्चा था । जब उसने रोहन को कछुओं को पत्थर मारते देखा तो उसने उसे माना किया । उसने उसे समझाया कि जानवरों को मारना या सताना बुरी बात है ।

1) कछुए कहाँ रहते थे ?

[तालाब () जंगल () घर () गाँव ()]

2) तालाब के किनारे कौन खेलने आए ?

[जानवर () बच्चे () औरतें () किसान ()]

3) रोहन कैसा बच्चा था ?

[शरारती () अच्छा () कमज़ोर () बीमार ()]

4) कछुओं को चोट कैसे लगी ?

[गिरने से () पत्थर से () खेलने से () भागने से ()]

5) राजू एक _____ बच्चा था ।

[समझदार () नटखट () बुरा () डरपोक ()]

6) राजू ने रोहन को क्या समझाया था ?

[जानवरों को मारना बुरी बात है () जानवरों को मारना चाहिए ()
जानवरों को भागना चाहिए () कछुओं को पत्थर मारना चाहिए ()

II समान अर्थ वाले शब्द लिखो :- (2)

(i) शरारती - _____ (ii) भय - _____

(iii) तलाश - _____ (iv) गुस्सा - _____

III दिए गए संयुक्ताक्षर से शब्द बनाइए :- (2)

(i) न्य - _____ (ii) त्ता - _____

(iii) क्ख - _____ (iv) च्च - _____

IV वाक्य बनाओ :-

1) नटखट - _____ (2)

2) देश - _____

V तुक शब्द लिखिए :-

(i) प्यारा - _____ (ii) रंग - _____ (2)

(iii) शान - _____ (iv) राज - _____

VI वचन बदलो :-

(i) जूता - _____ (ii) छिलका - _____ (2)

(iii) चूहा - _____ (iv) केला - _____

VII निम्नलिखित प्रश्नों के उत्तर लिखिए :-

(1x4=4)

1) नंदन वन में कौन रहता था ?


2) प्यारा-प्यारा नृत्य कौन दिखता है ?

3) हमारा राष्ट्रीय पुष्प कौन सा है ?

4) बाघ किसे साध कर रखता है ?

VI दिए गए शब्दों का सही चयन करके अनुच्छेद पूरा करो :-

(3)



[घोंसला , फूल , वर्षा , फल , छाया , स्वच्छ]

पेड़ हमारे जीवन के लिए बहुत उपयोगी हैं। पेड़ वायु को _____ बनाते हैं।

पेड़ हमें मीठे _____ और _____ देते हैं। पेड़ों की _____

से हमें गर्मी में रहत मिलती है। पेड़ों के कारण ही _____ होती है। पेड़ों पर

कई पक्षी अपना _____ भी बनाते हैं।



Sindh High School, K.K.Road, Bengaluru -01
Worksheet – 4 (2024-25)
Subject : Mathematics

Name : _____

Date : 28/1/25

Class : 2 A/B/C

Marks : 20

Roll no : _____

Reading Time : 8.00-8.10am

No.of printed sides -2

Writing time :8.10-9.10am

1) Complete the following :

(1x4=4)

- a) The weight of heavy objects is measured in _____.
- b) When a number is subtracted from itself , the difference is _____.
- c) The shortest month of the year is _____.
- d) There are _____ minutes in an hour.

2) Subtract the following :

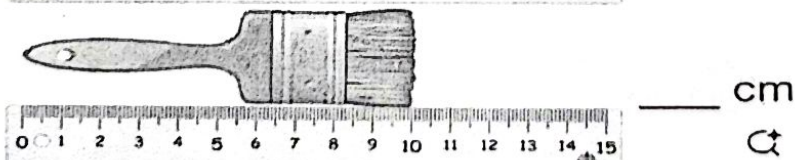
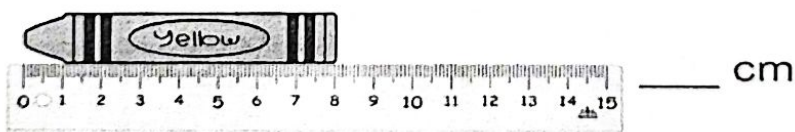
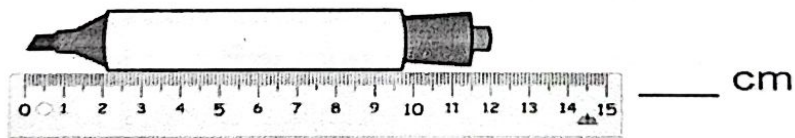
(1x2=2)

T	O
6	8
- 2	9

T	O
7	5
- 4	7

3) How many centimetres does each object measure?

(1x3=3)





4) Draw the hands of the clock to show the time given below :

a) 10:00

b) 2:30

(1x2=2)



5) Answer the following :

(1x4=4)

a) What is the standard unit of weight?

Ans _____

b) Name a month with 30 days.

Ans _____

c) The number of days in a leap year.

Ans _____

d) 136 taken away from 546

Ans _____

6) Look at the calendar for the month of February 2025 and fill in the blanks :

(1x5=5)

FEBRUARY 2025						
Sun	Mon	Tue	Wed	Thu	Fri	Sat
						1
2	3	4	5	6	7	8
9	10	11	12	13	14	15
16	17	18	19	20	21	22
23	24	25	26	27	28	

a) There are _____ days in this month.

b) The day before February 20th is _____.

c) The date on second Monday is _____.

d) There are _____ Friday's in this month.

e) February 1st falls on _____.



Sindhi High School K.K.Road, Bangalore

Worksheet-4 (2024-25)

Subject : EVS

Name: _____

Date: 30 /1/2025

Class: 2 A / B / C

Marks: 20

Roll No: _____

Reading Time: 8.00 am - 8.10 am

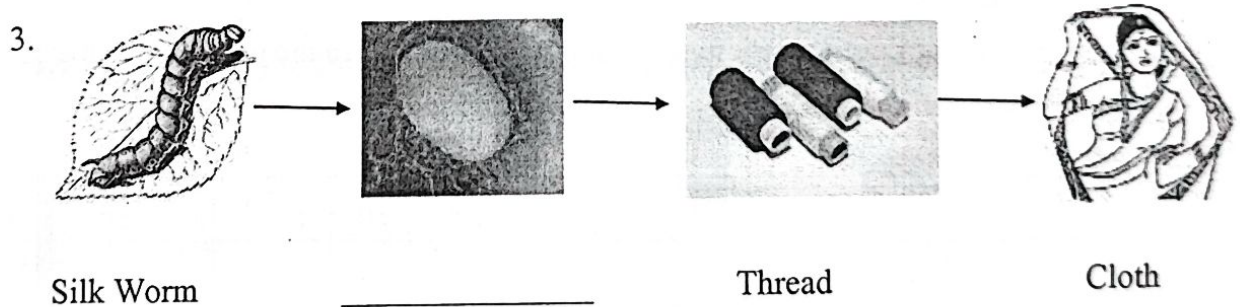

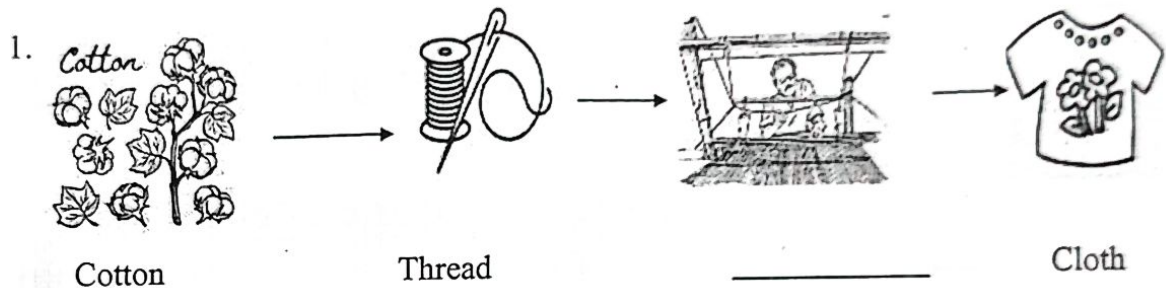
No of Printed Sides: 3

Writing Time: 8.10 am - 9.10 am

I Complete the following

1 x 3 = 3 Marks

Sources of clothes




1x3=3M

II Give two examples of each

1. Clothes we get from plants _____
2. Clothes that keep us warm _____
3. Animals that give us wool _____

1+2=3M

III Draw and colour the traffic light and write any two road safety rules.



Safety rules are:

1. _____

2. _____

IV Circle the correct word

1x3=3M

1. We can talk to people far away by a [Television / Telephone]
2. We send letters through the [Post Office / Newspaper]
3. We can watch different programs like movies, news on [Radio / Television]

V Answer the following


1M

1. Shalini's family is not able to step out of the house due to the pandemic. How do her parents get their daily needs?


Ans. _____

VI Draw one land transport, one Air transport and one water transport 1x3=3M


Land Transport



Air Transport



Water Transport



VII Name the following

1. The fastest means of transport _____
2. Animals used to carry loads in the desert _____

1x2=2M

VIII Answer the following questions

1. Why do we need clothes?

1x2=2M

Ans. _____

2. Millions Of years ago, how did early man travel?

Ans. _____
